

➤ DECOUVRIR

Surline les phrases extraites de manuels de mathématiques.

- Julie multiplie les bêtises.
- Pose et effectue les multiplications sur ton cahier.
- Ecris les fractions correspondant aux parties coloriées.
- Pendant une fraction de seconde, personne ne prit la parole.
- Calcule l'écart entre les températures du mois le plus chaud et celles du mois le plus froid.
- La ferme est à l'écart de la route.

➤ DES MOTS EN FAMILLE

Complète avec des mots de la famille des mots « calcul » ou « nombre ». Il te faut les retrouver.

- Le nombre 21 s'écrit XXI dans la
romaine.
- Pour vérifier ton résultat tu peux utiliser une
.....
- Pour bien doser ce médicament je me sers d'un
.....
- Le nombre d'étoiles dans le ciel est
.....

- Un automobiliste quitte son domicile à 8h20. Le
..... de sa voiture indique 28 742 kilomètres.

➤ MEMORISER LE SENS DE QUELQUES MOTS

Ecris les opérations correspondantes comme dans l'exemple..

Le double de la somme de 3 et de 5 se traduit par $2 \times (3+5)$.

Le triple de la différence de 12 et de 9.

.....

La somme de 3 et du double de 4.

.....

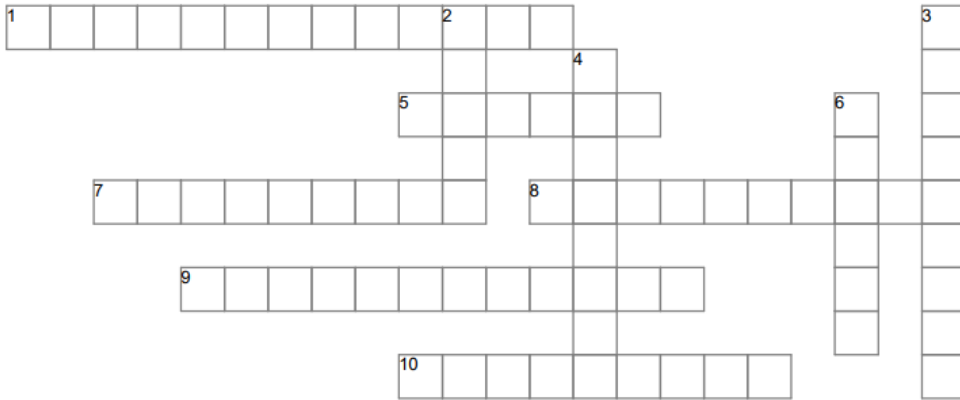
Associe l'écriture numérique à la phrase qui lui correspond.

$(18 - 6) \times 3$
$18 - (6 + 3)$
$18 : (6 + 3)$
$18 + 6 \times 3$

Le quotient de 18 par la somme de 6 et 3
La somme de 18 et du produit de 6 par 3
La différence de 18 et la somme de 6 et 3
Le produit de la différence de 18 et 6 par 3

➔ MEMORISER LE SENS DE QUELQUES MOTS

Complète la grille avec des mots de la fiche



HORIZONTAL

1. faire le compte de quelque chose
5. nombre terminé par 1,3,5,7,9
7. se dit d'un partage en parts égales
8. Partager des cartes
9. Machine électronique permettant de faire des calculs
10. synonyme de "plus"

VERTICAL

2. $3+2=$ 5
3. plus petit que
4. $132 : 6$
6. Contraire de moitié

➔ ECRIRE

Ecris un petit énoncé de problème correspondant à l'une des situations suivantes.

Consigne d'écriture

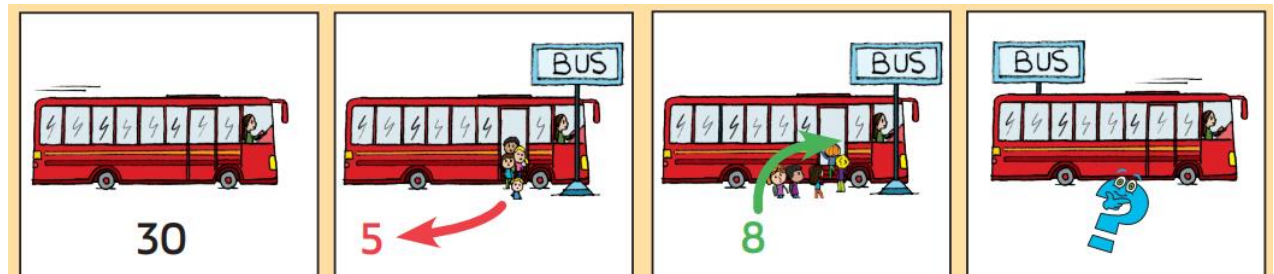
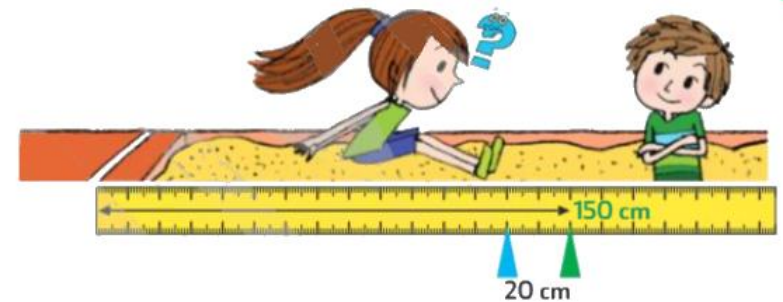
- J'ai raconté l'histoire qui correspond à l'image que j'ai choisie (personnages, lieu, action).
- J'ai écrit une question formulée et ponctuée correctement.
- J'ai résolu le problème par une ou plusieurs opérations en ligne.
- J'ai écrit une phrase de réponse reprenant les mots de la question.

Vocabulaire

- J'ai utilisé un vocabulaire précis sans répétition.

Orthographe

- Mon orthographe est correcte.



➔ DECOUVRIR

Surigne les phrases extraites de manuels de mathématiques.

- Julie multiplie les bêtises.
- Pose et effectue les multiplications sur ton cahier.
- Ecris les fractions correspondant aux parties coloriées.
- Pendant une fraction de seconde, personne ne prit la parole.
- Calcule l'écart entre les températures du mois le plus chaud et celles du mois le plus froid.
- La ferme est à l'écart de la route.

➔ DES MOTS EN FAMILLE

Complète avec des mots de la famille des mots « calcul » ou « nombre ». Il te de les retrouver.

- Le nombre 21 s'écrit XXI dans la romaine.
- Pour vérifier ton résultat tu peux utiliser une
- Pour bien doser ce médicament je me sers d'un
- Un automobiliste quitte son domicile à 8h20. Le de sa voiture indique 28 742 kilomètres.

➔ MEMORISER LE SENS DE QUELQUES MOTS

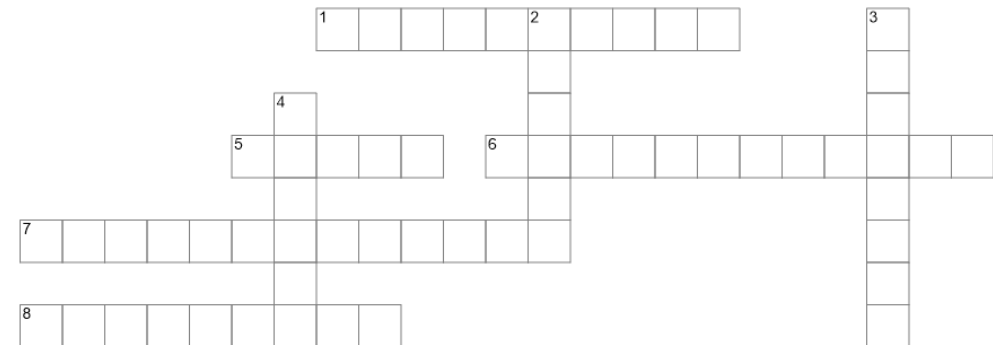
Associe l'écriture numérique à la phrase qui lui correspond.

$(18 - 6) \times 3$
$18 - (6 + 3)$
$18 : (6 + 3)$
$18 + 6 \times 3$

Le quotient de 18 par la somme de 6 et 3
La somme de 18 et du produit de 6 par 3
La différence de 18 et la somme de 6 et 3
Le produit de la différence de 18 et 6 par 3

➔ MEMORISER LE SENS DE QUELQUES MOTS

Complète la grille avec des mots de la fiche



HORIZONTAL

- Partager des cartes
- $3+2=5$
- Machine électronique permettant de faire des calculs
- faire le compte de quelque chose
- plus petit que

VERTICAL

- nombre terminé par 1,3,5,7,9
- $132 : 6$
- Contraire de moitié

➔ DECOUVRIR

Surligne les phrases extraites de manuels de mathématiques.

- Pose et effectue les multiplications.
- Ecris les fractions correspondant aux parties coloriées.
- Pendant une fraction de seconde, personne ne prit la parole.
- Calcule l'écart entre les températures du mois le plus chaud et celles du mois le plus froid.
- La ferme est à l'écart de la route.

➔ DES MOTS EN FAMILLE

Complète avec des mots de la famille des mots « calcul » ou « nombre ». Il te faut de les retrouver.

- Pour vérifier ton résultat tu peux utiliser une
.....
- Pour bien doser ce médicament je me sers d'un
.....
- Un automobiliste quitte son domicile à 8h20.
Le de sa voiture indique 28 742 kilomètres.

➔ MEMORISER LE SENS DE QUELQUES MOTS

Ecris la phrase qui correspond à l'opération.

- Exemple : $2 \times 3 = 6$ Le produit de 2 par 3 est 6.

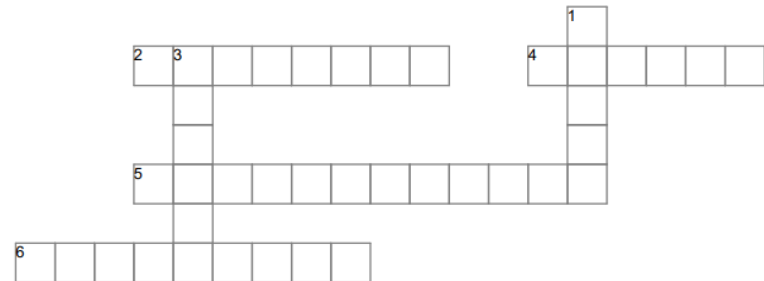
$5 + 8 = 13$

$22 - 7 = 15$

$11 \times 15 = 165$

➔ MEMORISER LE SENS DE QUELQUES MOTS

Complète la grille avec des mots de la fiche



HORIZONTAL

- 2. $132 : 6$
- 4. Contraire de moitié
- 5. Machine électronique permettant de faire des calculs
- 6. plus petit que

VERTICAL

- 1. $3+2=5$
- 3. nombre terminé par 1,3,5,7,9

➔ ECRIRE

Écris un petit énoncé de problème correspondant à l'une des situations suivantes.

Consigne d'écriture

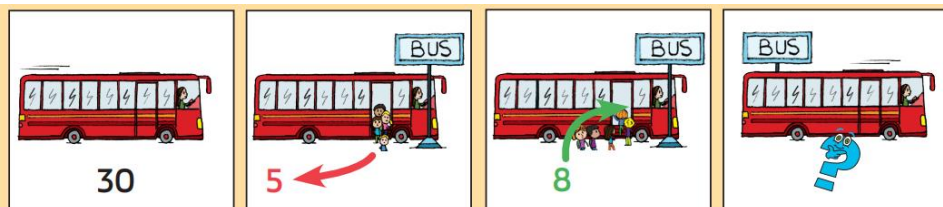
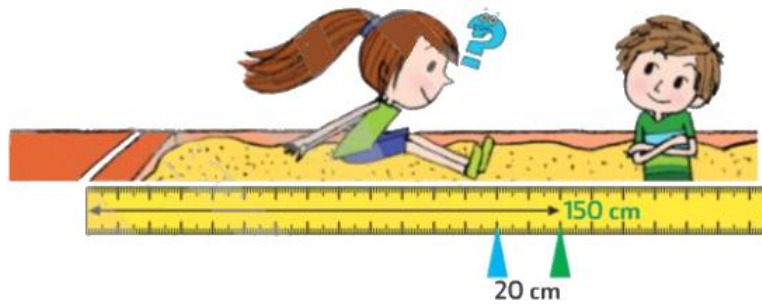
- J'ai raconté l'histoire qui correspond à l'image que j'ai choisie (personnages, lieu, action).
- J'ai écrit une question formulée et ponctuée correctement.
- J'ai résolu le problème par une ou plusieurs opérations en ligne.
- J'ai écrit une phrase de réponse reprenant les mots de la question.

Vocabulaire

- J'ai utilisé un vocabulaire précis sans répétition.

Orthographe

- Mon orthographe est correcte.



➔ ECRIRE

Écris un petit énoncé de problème correspondant à l'une des situations suivantes.

Consigne d'écriture

- J'ai raconté l'histoire qui correspond à l'image que j'ai choisie (personnages, lieu, action).
- J'ai écrit une question formulée et ponctuée correctement.
- J'ai résolu le problème par une ou plusieurs opérations en ligne.
- J'ai écrit une phrase de réponse reprenant les mots de la question.

Vocabulaire

- J'ai utilisé un vocabulaire précis sans répétition.

Orthographe

- Mon orthographe est correcte.

